

# Meinen Wohnort erkunden

## Lernstationen

6-7

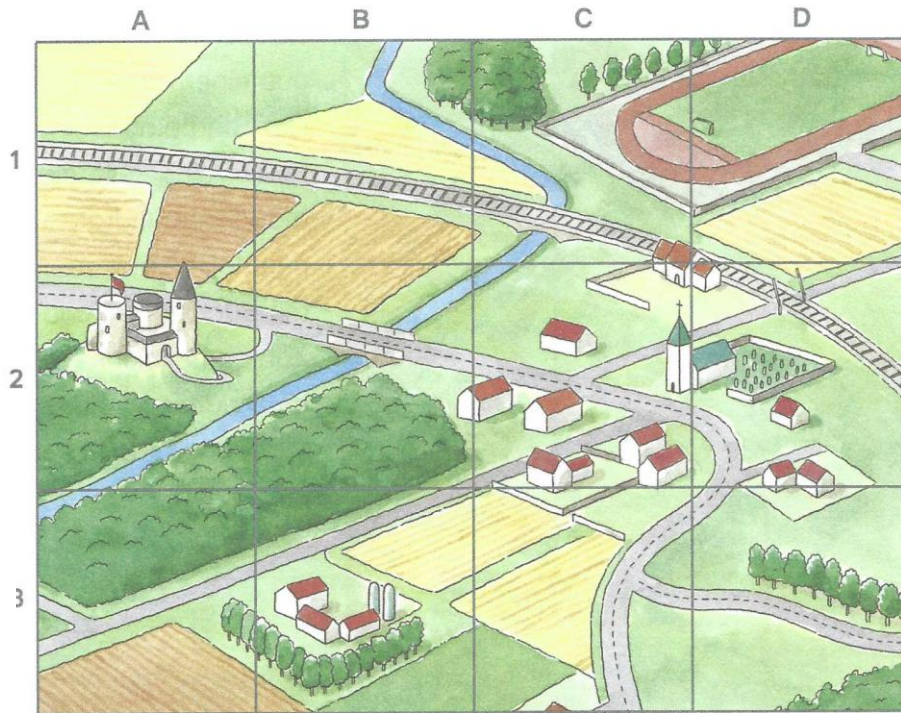
Wie gut kennst du dich  
in deinem Wohnort aus?



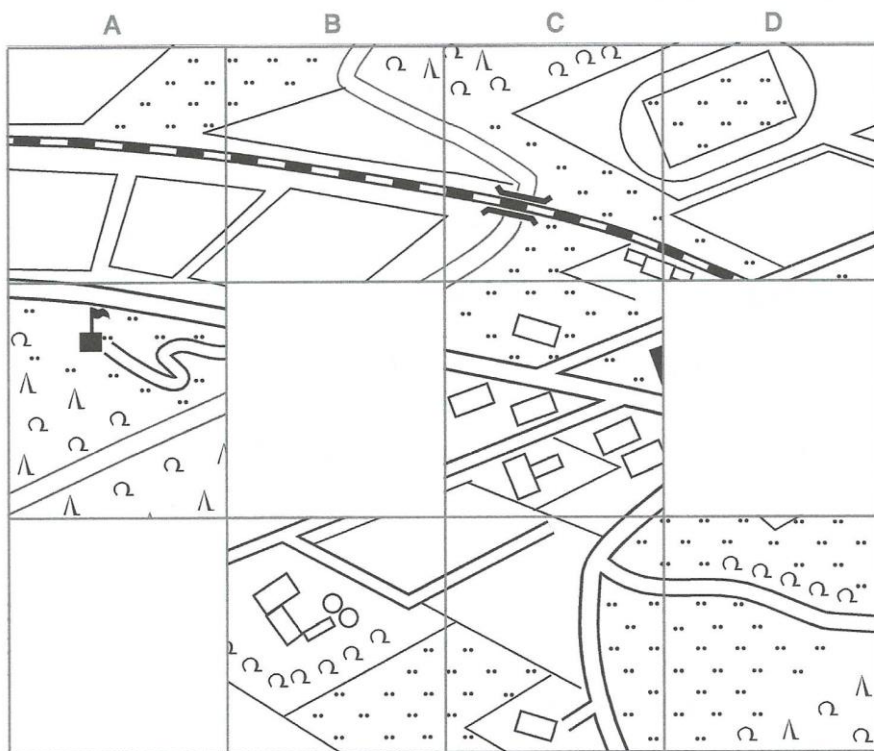




## Aufgabe:



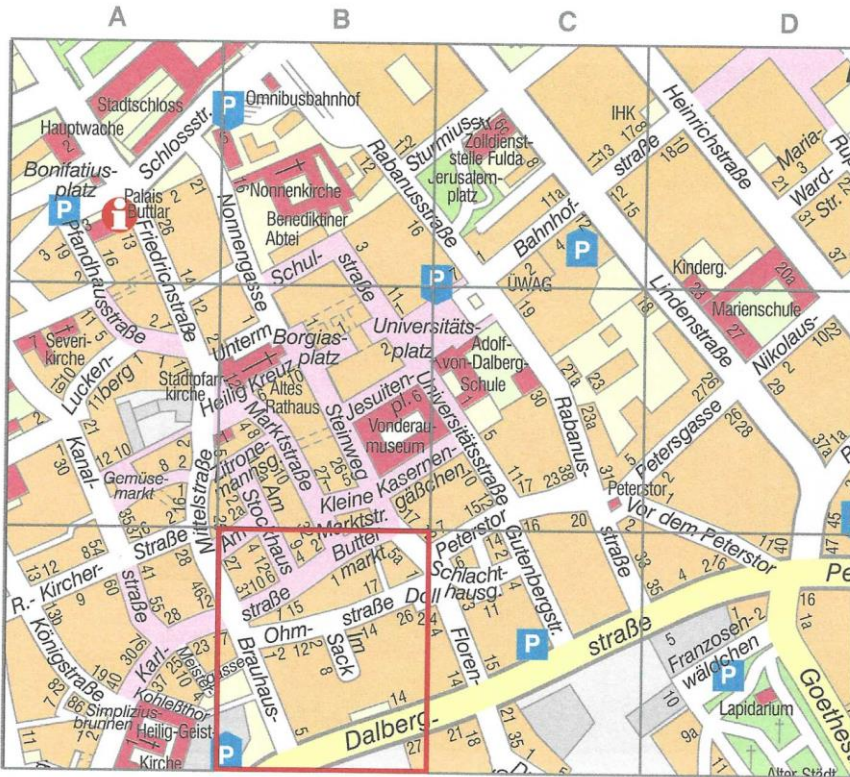
- Mischwald
- Wiese
- Ackerland
- Straße
- Weg
- Eisenbahn
- Brücke
- Gebäude
- Burg
- Kirche
- Friedhof
- Sportplatz
- Fluss



S. Sommer/M. Sommer: Sachunterricht an Stationen SPEZIAL: Deutschland und Europa  
© Auer Verlag – AAP Lehrerfachverlage GmbH, Donauwörth



① Ergänze die Karte mithilfe der Planquadrate. Trage wichtige Merkmale ein. Verwende dazu die Kartenzeichen und die Farben der Legende\*.



Das ist ein Ausschnitt aus einem Stadtplan. Der Stadtplan ist in Felder eingeteilt, die man Planquadrate nennt. Diese werden mit Buchstaben und Zahlen bezeichnet. Im Stadtplan ist das Planquadrat B12 umrandet.



① Finde im Planquadrat C11 das Peterstor und umrande es.



② Trage ein, in welchen Planquadraten du folgende Gebäude findest:

Nonnenkirche \_\_\_\_\_ Adolf-von-Dahlberg-Schule \_\_\_\_\_ Hauptwache \_\_\_\_\_



③ Zeichne den Weg von der Marienschule bis zum Stadtschloss ein.



④ Notiere den Weg. Benutze links, rechts, geradeaus.

Von der Marienschule aus biege ich rechts in die Lindenstraße ab.

---



---



---



⑤ Informiere dich, was diese Symbole bedeuten. Trage ein.




---



---




---



---