










Name:

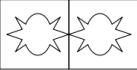
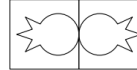
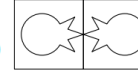
Bereich	Aufgabe	Kontrolle	komplett	Bemerkungen
 Lesebuch	O lesen: S. 114/115. O S. 115 Nr. 1 O S. 115 Nr. 2 Schreibe die Antworten bitte in dein rotes Heft S. 202: Frühlingsgedichte O Nr. 1 (Auswählen, schön abschreiben ins rote Heft, gestalten und Auswendiglernen!!!)			
 Mauswiesel	https://mauswiesel.bildung.hessen.de/ Täglich 30 min Mathe und/ oder Deutsch (Übungen nach Wahl) O Mo O Di O Mi O Do O Fr			
 Arbeitsheft	Bitte den Video Input auf unserer Homepage unter Pinguine nutzen! O S. 46, Nr 1 O S. 46, Nr 2 O S. 46, Nr 3			
 Mathebuch	O S. 130, Nr. 1 O S. 130, Nr. 2a, b, c O S. 130, Nr. 2d, e, f			
 Sachunterricht	Mein Ort erkunden O Station 1 O Station 2 O Station 3			Pdf./Mein Ort erkunden
 Englisch	https://mauswiesel.bildung.hessen.de/englisch/index.html O 15 min Vokabeln üben clothes O 15 min Vokabeln üben numbers O 15 min Vokabeln üben animals			
	Male ein Osterei nach Belieben an und schicke es an deine Lehrerin. Gerne kannst du damit auch etwas basteln oder es an einem besonderen Ort fotografieren.			

Bemerkungen: Wir wünschen Ihnen und Ihren Familien weiterhin viel Gesundheit in den nächsten Wochen. Bei Fragen oder Anmerkungen stehen wir Ihnen nach wie vor per Mail gerne zur Verfügung.

BITTE RÜCKSEITE BEACHTEN!

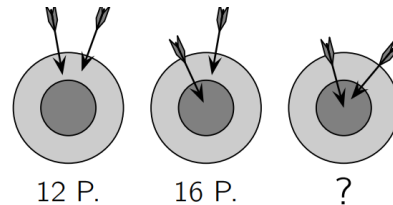
Rätsel der Woche (Der Känguru -Test wird intern durchgeführt!)

Lin faltet ein Blatt Papier einmal:  Dann schneidet Lin ein Stück heraus: 
Was sieht sie nach dem Auseinanderfalten?

- (A)  (B)  (C)  (D)  (E) 

Mit Pfeil und Bogen schießt Diana auf die Zielscheibe.
Beim 1. Mal erreicht sie 12 Punkte, beim 2. Mal sogar
16 Punkte. Wie viele Punkte sind es beim 3. Mal?

- (A) 18 (B) 19 (C) 20 (D) 21 (E) 22



Lösungen der letzten Woche:

Im Bild sind 3 Pfeile zu sehen. Sie fliegen auf 10 Luftballons zu. Trifft ein Pfeil einen Luftballon, so platzt dieser und der Pfeil fliegt in dieselben Richtung weiter. Wie viele Luftballons bleiben ganz?
(A) 2 (B) 3 (C) 4 (D) 5 (E) 6

Levi ist 8 Jahre alt. Sein Bruder ist 2 Jahre jünger und seine Schwester ist 2 Jahre älter als Levi. Wie alt sind die drei Geschwister zusammen?

- (A) 16 (B) 21 (C) ~~24~~ (D) 27 (E) 36



Liebe Kinder, liebe Familien!

Nicht ganz so perfekt, aber wir haben extra für euch Ostereier bemalt! Schaut mal auf unserer Homepage nach! Wer möchte, kann raten, wer von unserem (kompletten) Team, welches Ei gemalt hat. Auflösung folgt!!! Wir hoffen euch damit zu inspirieren!!!
Wer Lust hat, fotografiert sein gemaltes Osterei und mailt es uns. Wir setzen es dann auf die Homepage, so dass sie österlich geschmückt wird von uns allen zusammen!

Viel Spaß beim Schauen und Selbermalen!!!

Wir freuen uns auf deine/eure Antwort!

Herzliche Grüße vom ganzen Team