






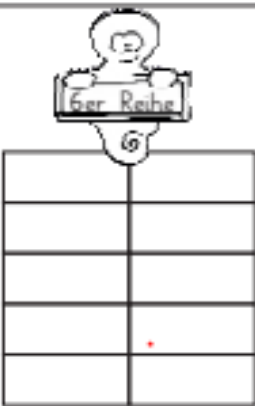

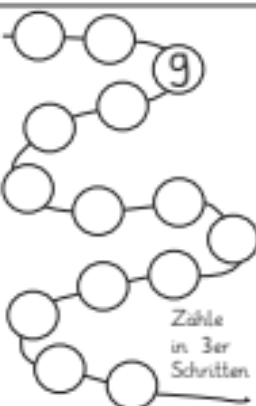

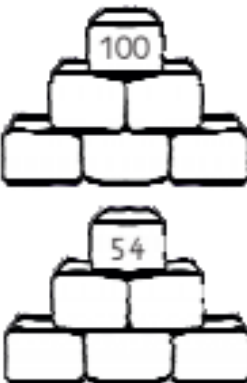




























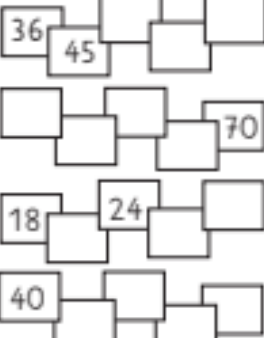


# Ministarter Einmaleins

Montag 	Dienstag 	Mittwoch 	Donnerstag 	Freitag 												
<p>Diese Aufgabe und Lösung kann ich mir nur schwer merken:</p>  <div style="border: 1px solid black; width: 100px; height: 50px; margin-left: 100px;"></div>	<p>Das Achtfache meiner Zahl ist 100 weniger 20.</p> 		<p>Wie viele Räder haben acht Autos?</p> 	 <p>Zähle in 3er Schritten</p>												
		<p>Wie viele Finger haben neun Piraten?</p> 	<p>Wie viele Räder haben acht Autos?</p> <p>Finde passende Zahlen!</p> <table border="1" style="margin-left: auto; margin-right: auto;"> <tr> <td></td> <td></td> <td></td> </tr> <tr> <td><input type="text"/></td> <td><input type="text"/></td> <td><input type="text"/></td> </tr> <tr> <td></td> <td></td> <td></td> </tr> <tr> <td><input type="text"/></td> <td><input type="text"/></td> <td><input type="text"/></td> </tr> </table>				<input type="text"/>	<input type="text"/>	<input type="text"/>				<input type="text"/>	<input type="text"/>	<input type="text"/>	
																
<input type="text"/>	<input type="text"/>	<input type="text"/>														
																
<input type="text"/>	<input type="text"/>	<input type="text"/>														
<p>Ich esse täglich drei Äpfel. Heute möchte ich für eine Woche einkaufen gehen.</p> 	<p>In der Nacht leuchten im Wald 18 Eulenaugen. Wie viele Eulen sind im Wald?</p> 	<p>Meine Lieblingseinmaleinsreihe</p> 	<p>Wie viele Stuhlbeine haben sieben Stühle?</p> 													
<p>Teile durch 4:</p> <table border="1" style="width: 100%;"> <tr><td>12</td><td><input type="text"/></td></tr> <tr><td>28</td><td><input type="text"/></td></tr> <tr><td>24</td><td><input type="text"/></td></tr> <tr><td>36</td><td><input type="text"/></td></tr> <tr><td>40</td><td><input type="text"/></td></tr> </table>	12	<input type="text"/>	28	<input type="text"/>	24	<input type="text"/>	36	<input type="text"/>	40	<input type="text"/>		<p>Miriam hat 24 Bonbons und möchte sie fair mit ihren drei Schwestern teilen.</p> 	<p>Im Affengehege toben sieben Affen herum. Der Tierpfleger hat 28 Bananen in das Gehege gelegt.</p> 	<p>Setze die Reihen fort:</p> 		
12	<input type="text"/>															
28	<input type="text"/>															
24	<input type="text"/>															
36	<input type="text"/>															
40	<input type="text"/>															