



Musik – Thema Notenwerte

Name:

Datum:




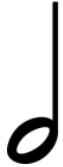




Aufgabe: Was gehört zusammen? 1. Schneide die Bilder und Begriffe auf dem nächsten Blatt aus.2. Klebe sie in die Tabelle ein! *Ist alles richtig? Kontrolliere mit dem Lösungsblatt!*

Notenpizza	Notenbild	Name der Note	Dauer (Schläge)
A circular diagram representing a pizza, divided into 8 equal slices by a vertical line, a horizontal line, and two diagonal lines.			
	A single quarter note symbol.		
		Viertel Note	
			$\frac{1}{2}$ Schlag

Schneide aus  und klebe  in die Tabelle ein!

 	 	Halbe Note	2 Schläge
		Ganze Note	1 Schlag
		Achtel Note	4 Schläge

Lösungsblatt zur Selbstkontrolle

Notenpizza	Notenbild	Name der Note	Dauer (Schläge)
		Ganze Note	4 Schläge
		Halbe Note	2 Schläge
		Viertel Note	1 Schlag
		Achtel Note	$\frac{1}{2}$ Schlag